



2. razred OŠ


IME IN PRIIMEK \_\_\_\_\_

RAZRED \_\_\_\_\_ MENTOR \_\_\_\_\_

1	2	3	4	5	6	7	8	9	10


ZA REŠEVANJE IMAŠ NA VOLJO 45 MINUT. ODGOVORE ZAPIŠI V GORNJO PREGLEDNICO. ZA VSAK PRAVILEN ODGOVOR DOBIŠ 4 TOČKE. ZA VSAK NEPRAVILEN ODGOVOR TI ODŠTEJEMO 1 TOČKO. ČE PA PUSTIŠ POLJE V PREGLEDNICI PRAZNO, DOBIŠ 0 TOČK.

1. JUŠ JE S 25 MAJHNIMI KVADRATNIMI PLOŠČICAMI OBLIKOVAL KVADRAT. NJEGOVA SESTRA NELI JE NATO VZELA NEKAJ PLOŠČIC, IZ KATERIH JE BIL OBLIKOVAN KVADRAT (GLEJ SLIKO). KOLIKO PLOŠČIC JE VZELA NELI?



- (A) 6      (B) 7      (C) 8      (D) 10      (E) 12

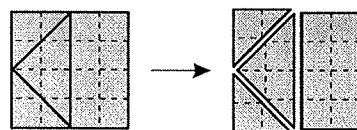
2. 1 DINOZAUERČEK TEHTA TOLIKO KOT 2 LEVČKA. 1 LEVČEK TEHTA TOLIKO KOT 2 RAČKI (GLEJ SLIKO).

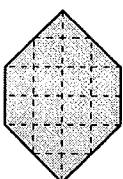
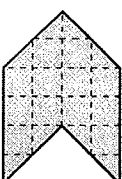
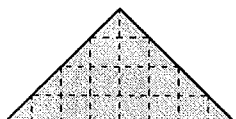
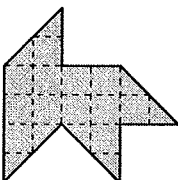
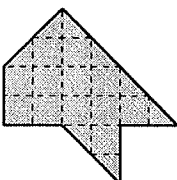


KOLIKO RAČK TEHTA TOLIKO KOT 1 DINOZAUERČEK?

- (A) 1      (B) 2      (C) 3      (D) 4      (E) 5

3. JAN JE KVADRAT RAZREZAL NA 4 DELE (GLEJ DESNO SLIKO). KATEREGA IZMED SPODNJIH LIKOV JAN NI MOGEL OBLIKOVATI IZ DOBLJENIH 4 DELOV?



- (A) 
- (B) 
- (C) 
- (D) 
- (E) 


4. ROBOT ROK ZNA NAPISATI SAMO ŠTEVKE 1, 3 IN 5. KOLIKO RAZLIČNIH ŠTEVIL, VEČJIH OD 11 IN MANJŠIH OD 19, LAHKO NAPIŠE ROBOT ROK?

- (A) 1            (B) 2            (C) 3            (D) 7            (E) 8


5. PELIKANI PELI, VELI IN KAN SO SE POGOVARJALI, KOLIKO RIB SO ULOVILI (GLEJ SLIKO).

UJEL SEM VEČ RIB  
KOT PELI IN MANJ RIB  
KOT KAN.

UJEL SEM 2 RIBI.




PELI



VELI

UJEL SEM 4 RIBE.




KAN

KOLIKO RIB SKUPAJ SO ULOVILI PELIKANI PELI, VELI IN KAN?

- (A) 1            (B) 2            (C) 4            (D) 9            (E) 12

6. TILNU SE JE POŠKODOVALA ŠAHOVNICA (GLEJ SLIKO).



KOLIKO ČRNIH POLJ MANJKA NA ŠAHOVNICI LEVO OD ČRTE?

- (A) 5            (B) 6            (C) 7            (D) 8            (E) 11


7. RENATA BO ŠTEVKE 1, 2 IN 3 ZAPISALA V KVADRATKE

$$\square\square + \square = ,$$

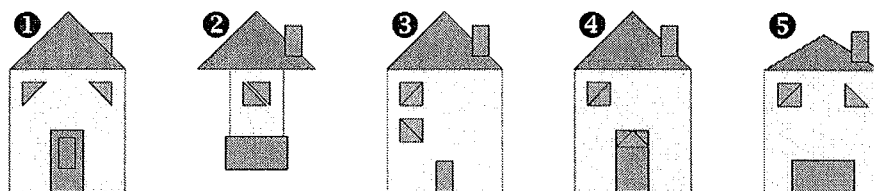
V VSAK KVADRATEK ENO ŠTEVKO. NAJVEČ KOLIKO JE LAHKO VSOTA DOBLJENEGA RAČUNA?

- (A) 6            (B) 15            (C) 24            (D) 33            (E) 35

8. LUKA JE NARISAL ZVEZDO V KROGU (GLEJ DESNO SLIKO).  
NA KATERI SLIKI JE OSREDNJI DEL LUKOVE ZVEZDE V KROGU?



9. TILEN JE IZ PRAVOKOTNIH IN TRIKOTNIH PLOŠČIC OBLIKOVAL 5 HIŠ (GLEJ SLIKO).



ZA KATERI 2 HIŠI JE TILEN UPORABIL ENAKE PLOŠČICE?

- (A) 1 IN 4    (B) 3 IN 4    (C) 2 IN 5    (D) 1 IN 5    (E) 2 IN 4

10. MARUŠA JE NAPISALA 6 RAČUNOV ODŠTEVANJA, KATERIH REZULTATI SO ŠTEVILA OD 1 DO 6. NATO JE PO VRSTI POVEZALA PIKE, ZAČELA JE PRI PIKI, PRI KATERI JE RAZLIKA ENAKA 1, IN KONČALA PRI PIKI, PRI KATERI JE RAZLIKA ENAKA 6.

$$3 - 2 \bullet \quad \bullet 5 - 3$$

$$9 - 6 \bullet \quad \bullet 11 - 7$$

$$13 - 8 \bullet \quad \bullet 19 - 13$$

KATERO IZMED NASLEDNJIH LOMLJENIH ČRT JE LAHKO NARISALA MARUŠA?

